









MASSE	Séquence 2	Séance 1
CE1	PROBLÈMES	

	Sachant que le paquet de sucre pèse 1 kg (1 000 g) et qu'il faut deux paquets de pâtes à modeler pour faire la même masse, combien pèse un paquet de pâte à modeler ?
	<b>Recherche / calcul</b>
	.....

	Sachant que le paquet de sucre pèse 1 kg (1 000 g) et qu'il faut quatre paquets de café pour faire la même masse, combien pèse un paquet de café ?
	<b>Recherche / calcul</b>
	.....

	Sachant que le paquet de sucre pèse 1 kg (1 000 g) et qu'il faut dix cahiers pour faire la même masse, combien pèse un cahier ?
	<b>Recherche / calcul</b>
	.....

	Sachant que le paquet de sucre pèse 1 kg (1 000 g) et qu'il faut cent craies pour faire la même masse, combien pèse une craie ?
	<b>Recherche / calcul</b>
	.....